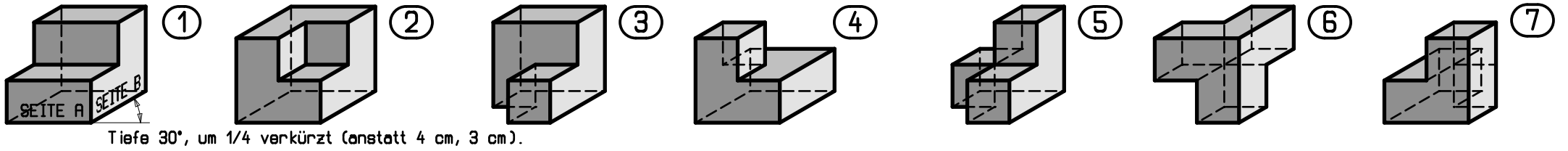
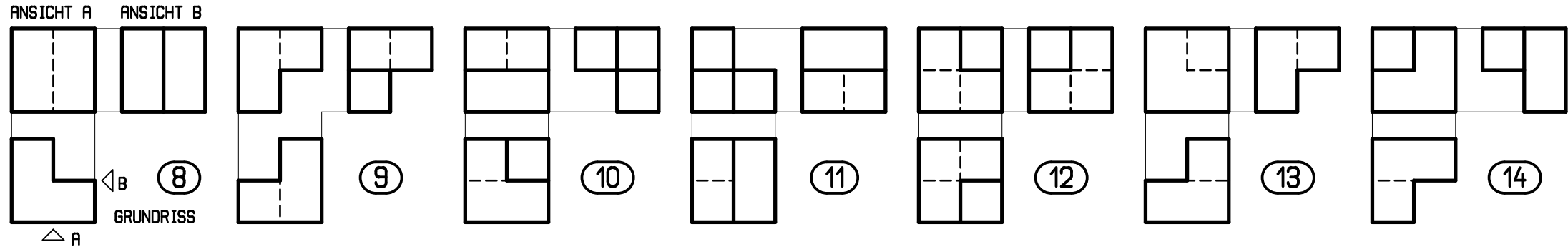


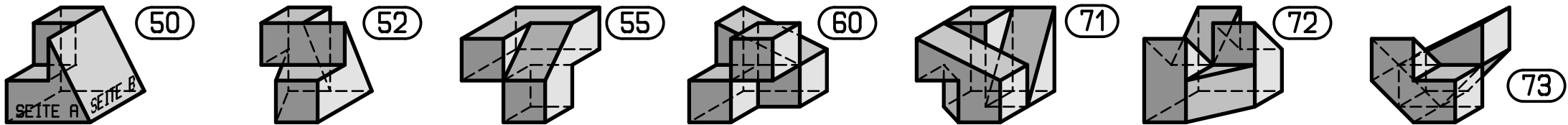
Zeichne aus der Schrägissdarstellung die zugehörigen 3 Risse - Grundriss, Ansicht A und B (Seitenlänge Würfel 4 cm)



Zeichne aus den 3 Rissen die zugehörigen Schrägissdarstellungen



Zeichne aus der Schrägissdarstellung die zugehörigen 3 Risse - Grundriss, Ansicht A und B



Zeichne aus den 3 Rissen die zugehörigen Schrägissdarstellungen

